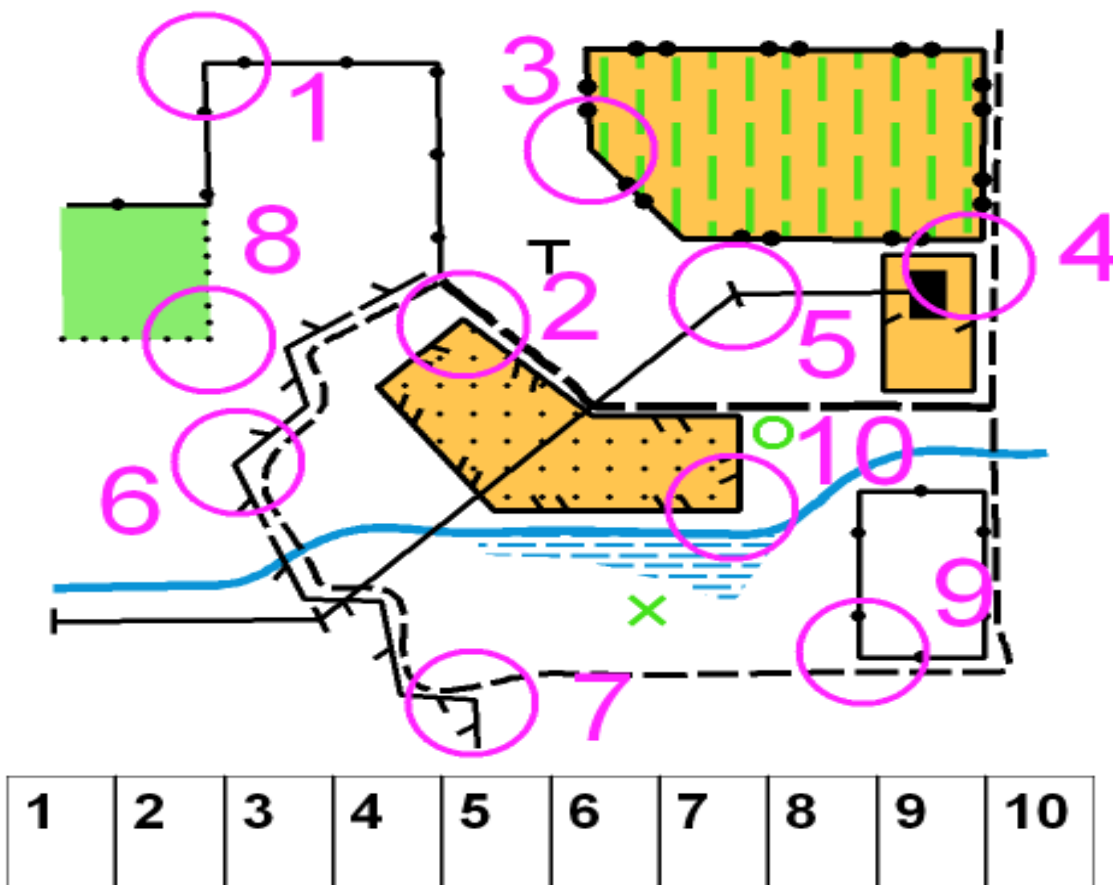




# Questions pour un Orienteur



La définition du poste est « ANGLE DE LA CLOTURE »  
 Mettre une croix dans la ou les cases figurant sous la carte,  
 correspondant à cette définition.

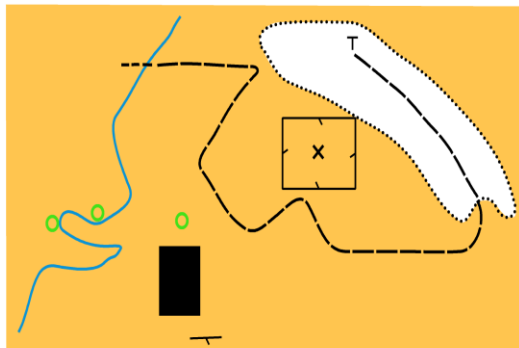
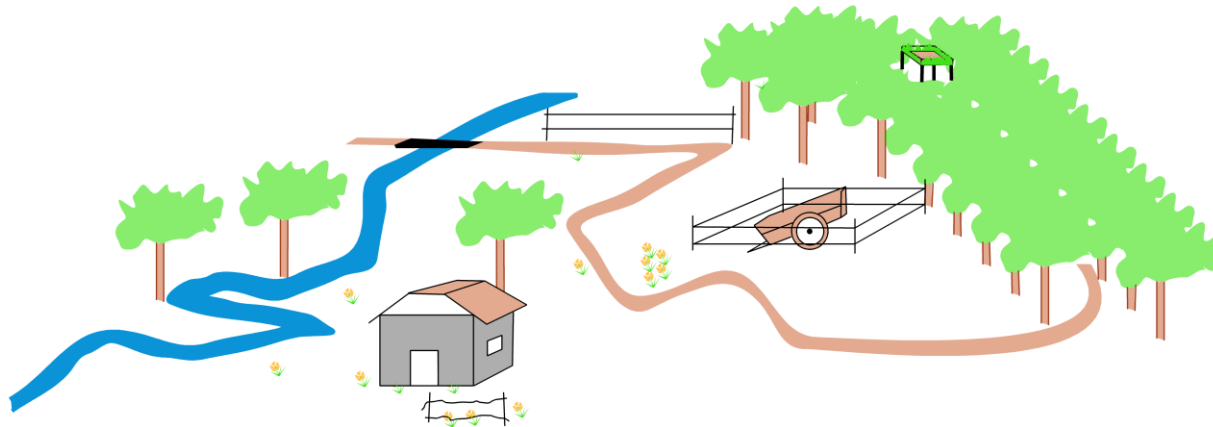
	●	● Chemin
	●	● Etang - Mare
	●	● Bâtiment
	●	● Objet particulier
	●	● Arbre isolé
	●	● Butte
	●	● Mangeoire
	●	● Ligne électrique

Reliez par un trait le symbole à sa définition.

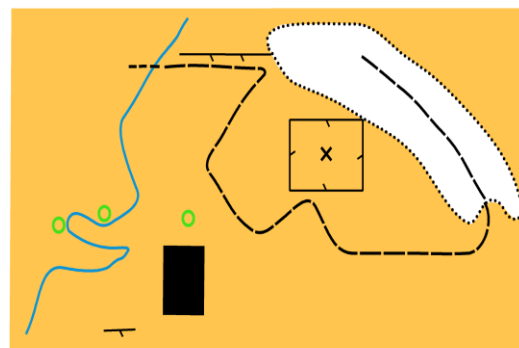


**Sur ces deux cartes pratiquement identiques, trouvez 3 erreurs, les noter en les entourant d'un cercle sur la carte de gauche.**

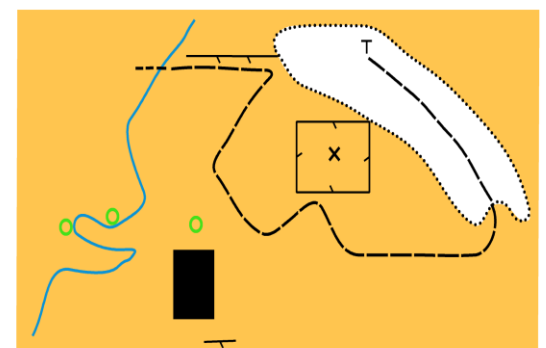
Quel plan correspond au paysage? Indiquez votre réponse en entourant la lettre correspondante



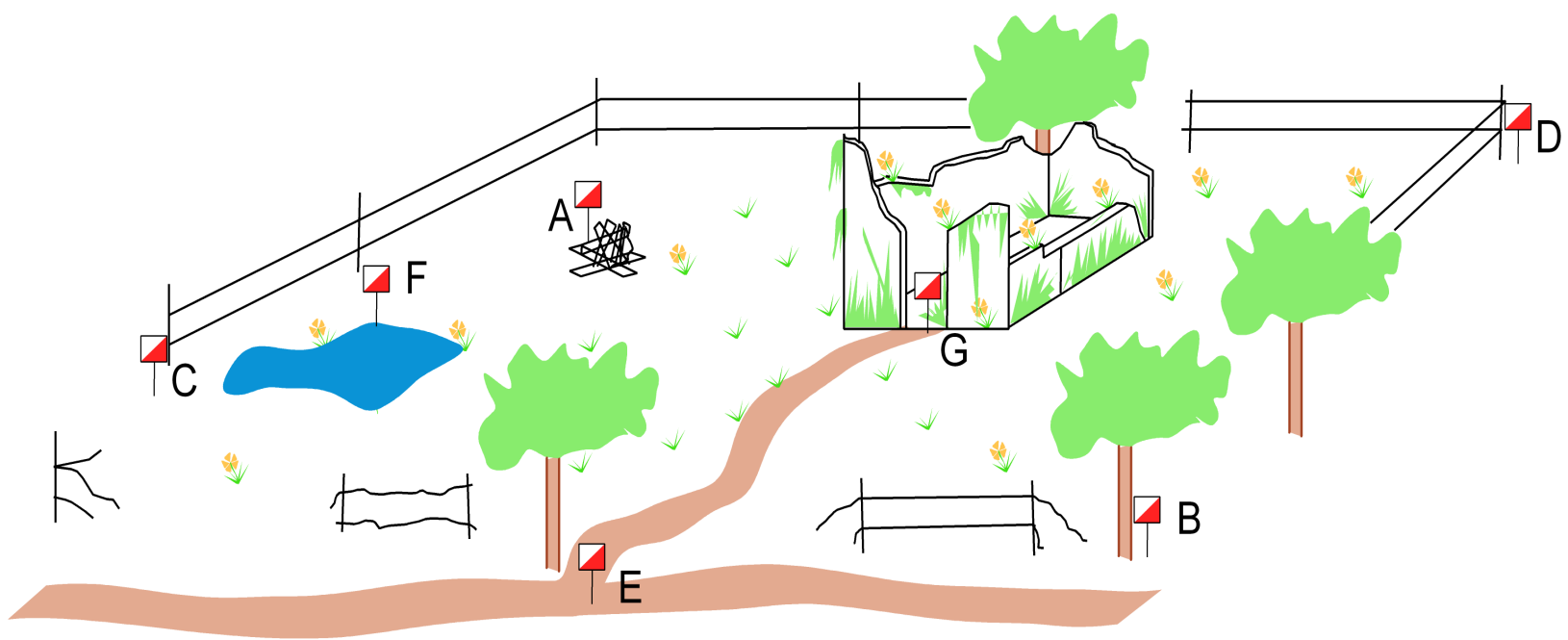
A



B



C




Quelle balise correspond à la définition?  
 Reportez les lettres des balises dans les cases  
 du tableau

<b>Extrémité de la clôture</b>	1
<b>Jonction de sentiers</b>	2
<b>Côté de la Ruine</b>	3
<b>Angle de la clôture</b>	4
<b>Objet particulier</b>	5
<b>Arbre isolé</b>	6
<b>Mare</b>	7

Certains éléments de la carte et donc du terrain peuvent ou non être traversés ou franchis.

Reliez par un trait les symboles que tu peux traverser et ceux que tu ne peux pas traverser

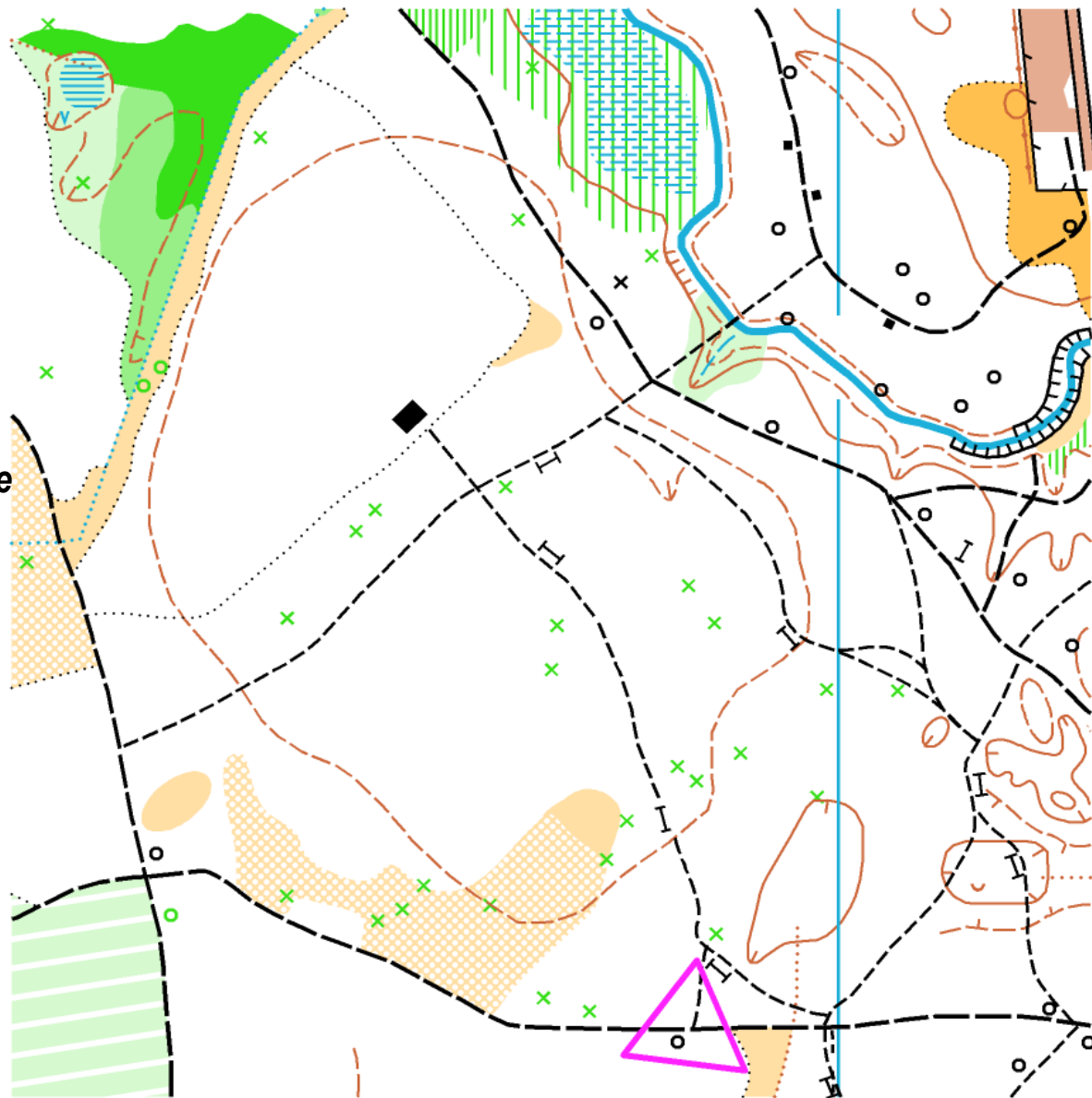


• Je peux passer

• Je ne peux pas passer

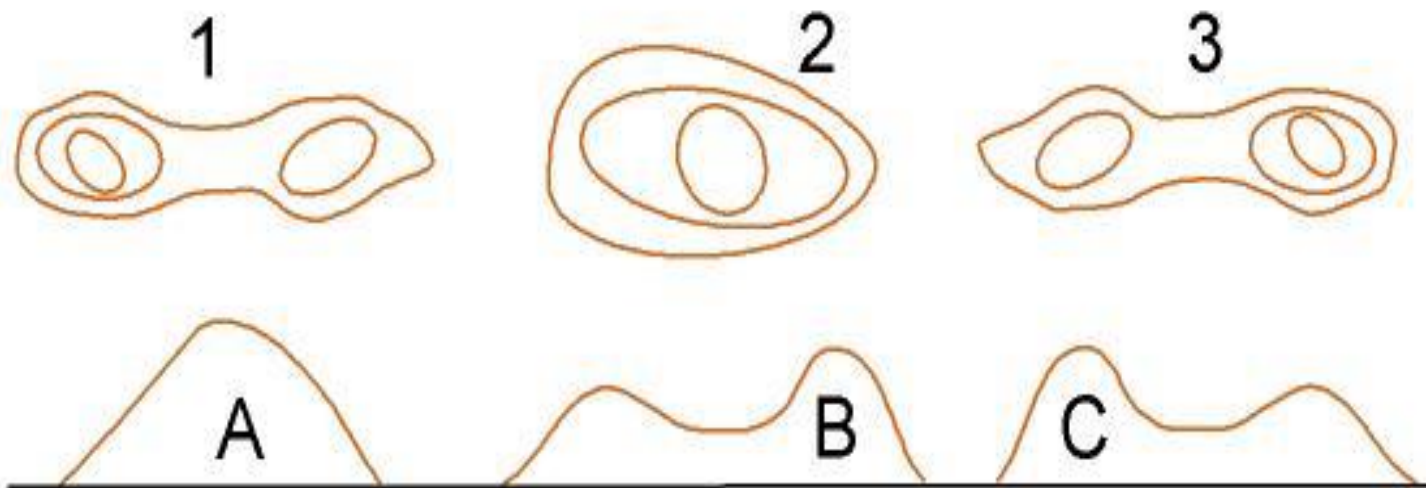
## Dictée Co

*« Je suis au triangle de départ.  
Au top départ je prends le chemin  
qui va vers le nord.  
Arrivé à la jonction des chemins  
je tourne à gauche puis je continue  
en courant très  
vite jusqu'à la prochaine  
intersection de chemins.  
A cette intersection je tourne à droite  
puis je continue je passe une  
intersection puis je traverse le  
ruisseau par le pont et  
j'arrive à une nouvelle jonction  
de chemins je tourne à gauche  
et je trouve enfin la balise à  
côté d'une petite maison situé  
sur la droite du chemin »*

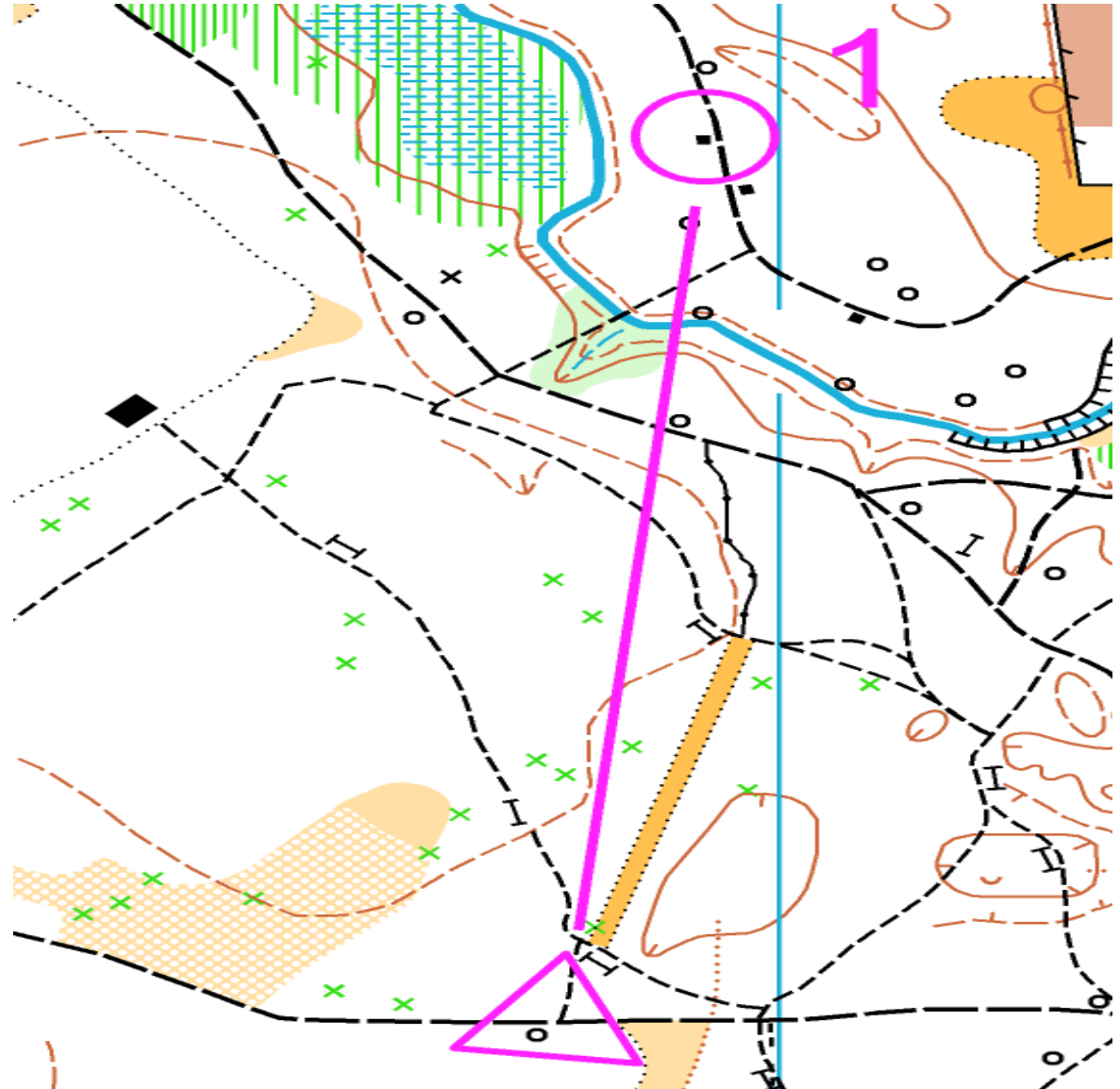




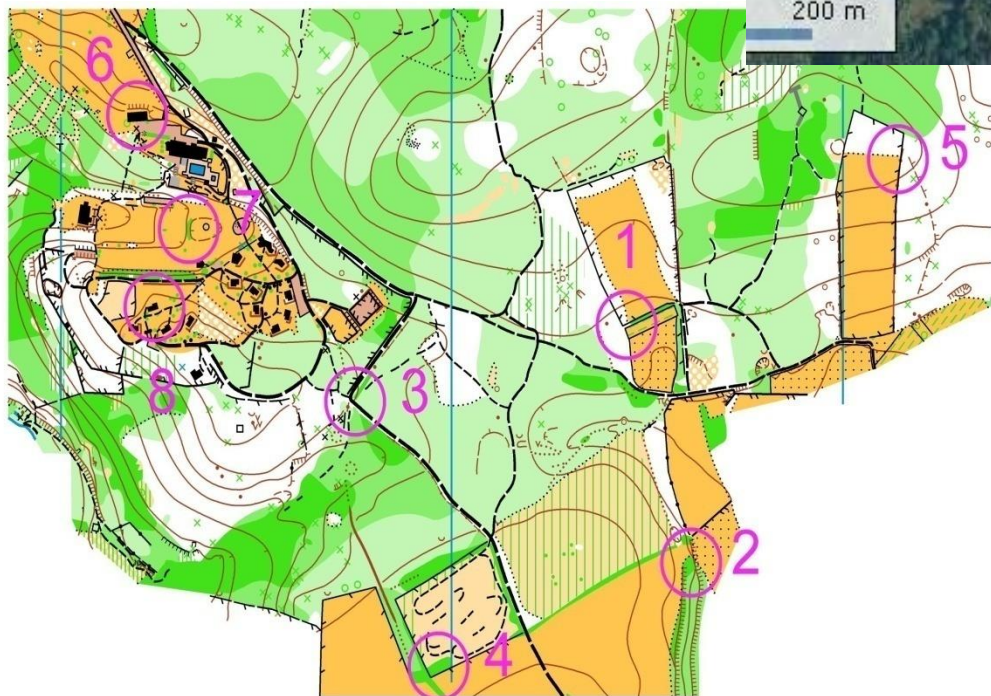
Associez le plan à la coupe en reliant la bonne lettre avec le bon chiffre



Tracez sur la carte ci-dessous le meilleur itinéraire pour aller du départ au poste 1.



Reportez les postes et les numéros figurant sur la carte sur la photo aérienne

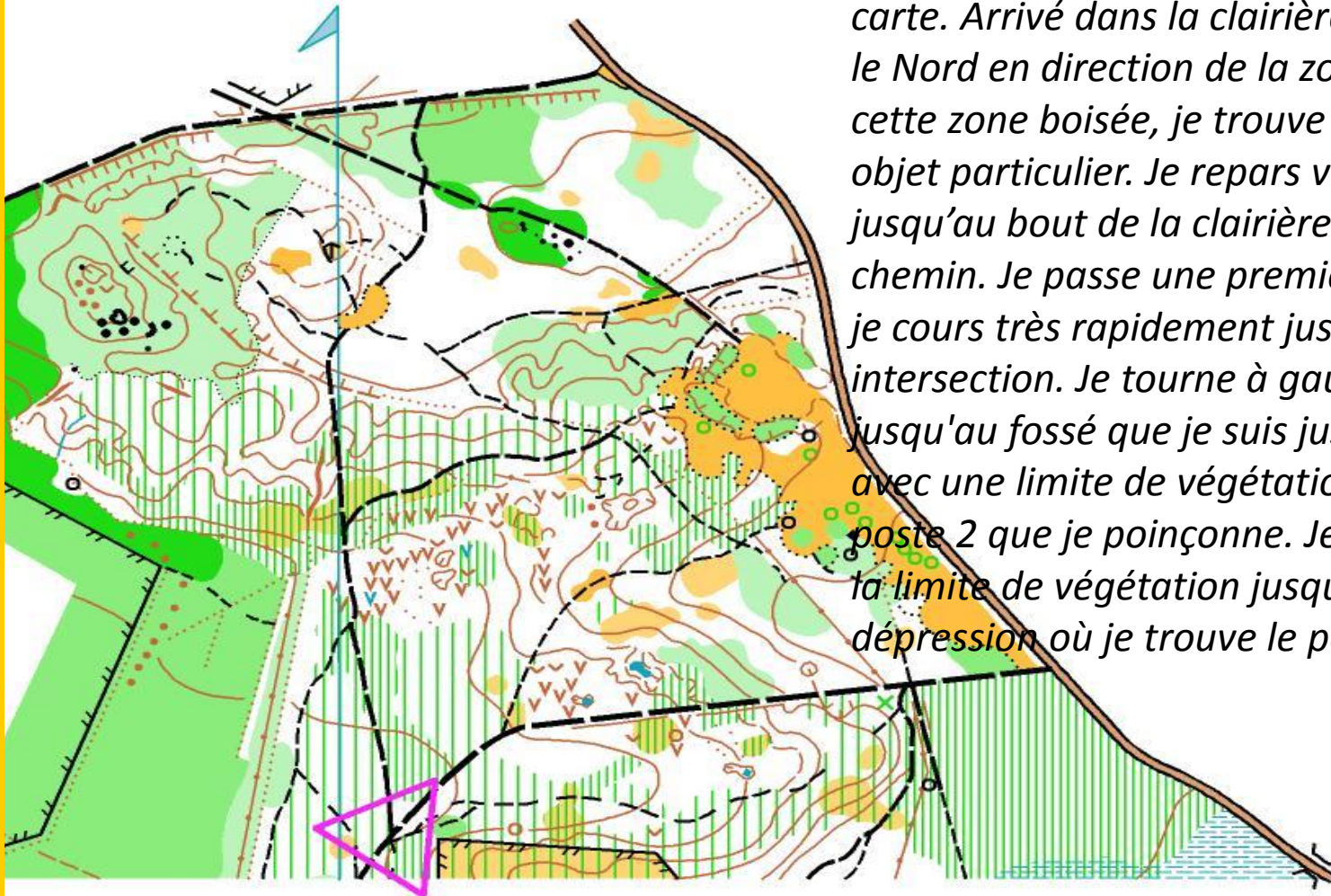


Sur ces deux cartes pratiquement identiques, trouvez 6 erreurs, notez les en les entourant sur la carte de droite

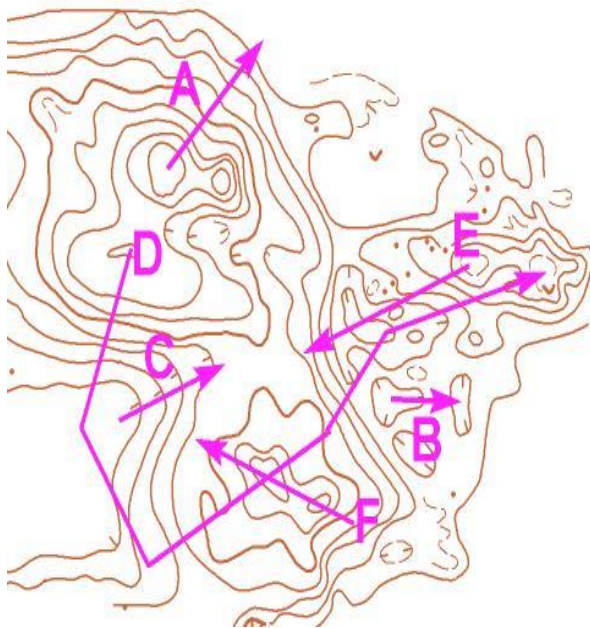


Essayez de trouver l'emplacement de 3 postes que recherche cet orienteur en lisant ce qu'il raconte. Quand tu trouves l'emplacement du poste entoure l'élément sur lequel se trouve la balise

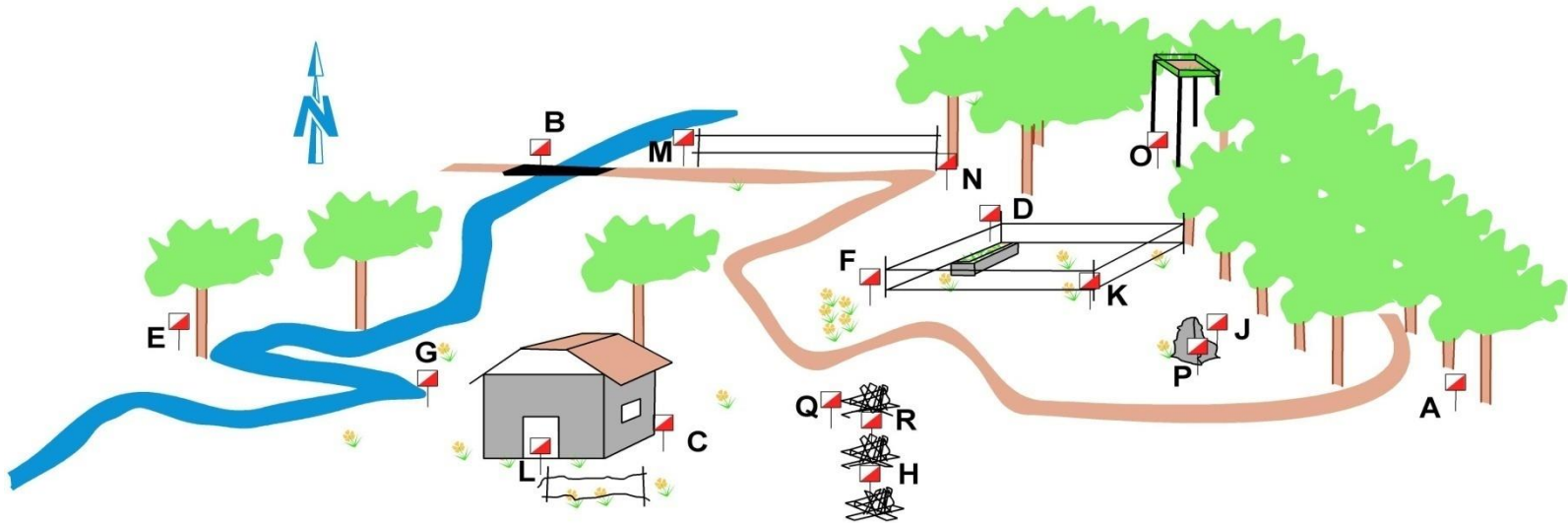
*Je suis au triangle de départ. Au top départ je prends le chemin indiqué par la pointe du triangle. Arrivé à la jonction de chemins, je prends le chemin de gauche et je cours très vite vers la grande clairière située à l'Est de la carte. Arrivé dans la clairière, je me dirige vers le Nord en direction de la zone boisée. Dans cette zone boisée, je trouve le poste 1 sur un objet particulier. Je repars vers le Nord Ouest jusqu'au bout de la clairière et j'emprunte le chemin. Je passe une première intersection et je cours très rapidement jusqu'à la seconde intersection. Je tourne à gauche et je cours jusqu'au fossé que je suis jusqu'à la rencontre avec une limite de végétation où je trouve le poste 2 que je poinçonne. Je repars en longeant la limite de végétation jusqu'à la petite dépression où je trouve le poste 3*



En observant la carte ci dessous, reliez les lettres en fonction de la trajectoire montante et descendante effectuée par les flèches sur la carte.



- A . . descend - monte
- B . . monte - descend - monte - descend
- C . . monte
- D . . monte descend
- E . . descend - monte - descend - monte
- F . . descend



	31		■			○
	32		~			<
	33		∕			└
	34	↑	×			≡
	35		T			
	36		▲			○
	37		⋯			∨
	38		△			

**Trouvez la balise correspondant à la définition. Reportez la lettre de la balise dans la première colonne de la grille de définitions**